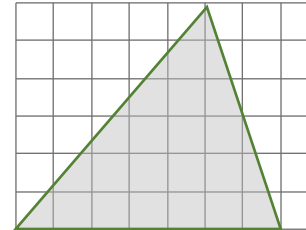
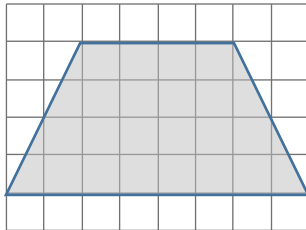
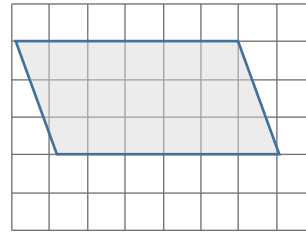
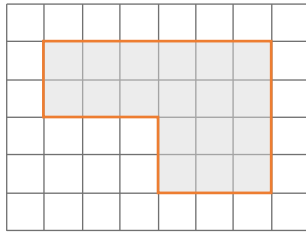




# Prisma

## Volumen



Hier siehst du die Grundfläche von vier Prismen. Alle vier haben eine Höhe von 15 cm. Berechne die Volumina der Prismen. Kannst du schon vorhersagen, welches das größte Volumen hat?

<https://youtu.be/njnsRUCiARI>

<https://youtu.be/heFwGsB4La0>

